

Олимпиада школьников по географии
Ответы к заданиям муниципального этапа для 10 класса
в 2024/2025 учебном году

Ответы к тестовому заданию для 10 класса – максимально 30 баллов		
№ вопроса	Вариант ответа	Кол-во баллов
1.	а) Дежнёв С.И.	1
2.	б) 1:5 000 000	0,5
3	г) азимутальная	1
4.	а) Мехико	1
5.	а) известняк	0,5
6.	б) песок в) гравий	0,5 0,5
7.	а) Китайско-Корейская г) Северо-Американская	0,5 0,5
8.	г) Месторождения железной руды часто связаны с щитами древних платформ	0,5
9.	а) Урал	0,5
10.	б) Испания, Великобритания	1,25
11.	а) Волга	1,25
12.	г) электроэнергетика	1
13.	б) наличие месторождений алюминиевых руд в) энергетический	0,5 0,5
14.	в) Ливия	0,5
15.	б) Мозамбикский – В в) Мессинский - И	0,75 0,75
16.	1,2,3	1,5
17.	а) Замбези – Е б) Енисей - Д	1 1
18.	в) Берингово	0,5
19.	в) Средняя глубина – 1220 м, максимальная – 5527 м (Гренландское море)	0,5
20.	б) хамсин г) харматан	0,5 0,5
21.	а) коричневые	0,5
22.	а) Индонезия	0,5
23.	а) Демократическая республика Конго	1
24.	б) Канада и Норвегия	0,5
25.	А – эрозия – механическое разрушение почв водой и ветром или иссушение почв (недостаток влаги) Б – заражение почв в результате неправильного орошения и внесения удобрений или заражение почв в результате техногенных аварий или потери сельскохозяйственных земель при использовании под городские постройки.	по пункту А полный ответ -1 балл (на каждый фактор по 0,5+0,5); по пункту Б полный ответ - 1,5 балла (на каждый фактор по 0,5+0,5+0,5)
26.	А – жестколистные леса Б – смешанные и широколиственные леса	1,25 1,25
27.	б) Беловежская пуца	0,5
28.	Астраханская область	1
29.	Франция	1
30.	Германия	1

Ответы к теоретическому туру 10 класс в 2024/2025 учебном году

Задание 10.1 Максимальное количество баллов – 8,5

Назовите климатические пояса северного полушария, обозначенные цифрами на карте. Определите климатические пояса, которым соответствуют следующие характеристики рек:

- А) реки всегда многоводны, не замерзают весь год;
- Б) реки многоводны только в летний период;
- В) реки маловодны, часто превращаются в вадии или крики;
- Г) реки не замерзают, летом мелеют, зимой разливаются;
- Д) реки замерзают на продолжительный зимний период, весной разливаются, летом мелеют.

Ответы запишите в таблицу 10.1.

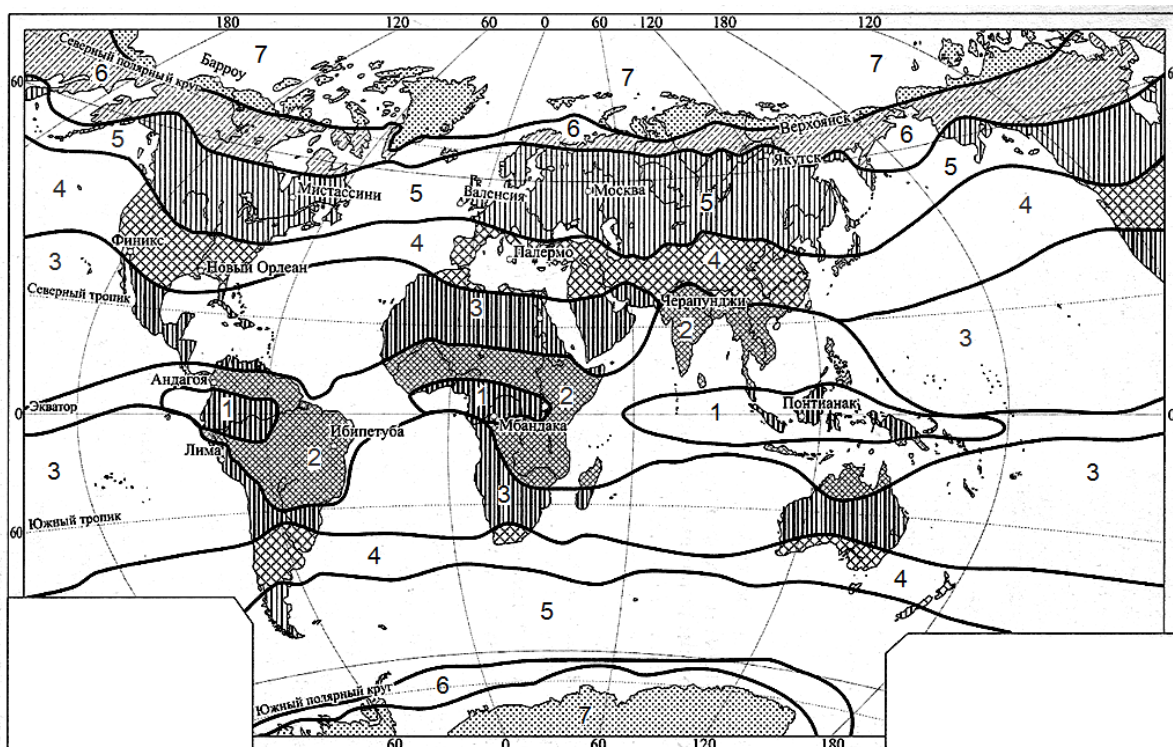


Таблица 10.1

Вопросы	Ответы	Кол-во баллов
Назовите климатические пояса северного полушария, обозначенные цифрами на карте:	1. – экваториальный 2. – субэкваториальный 3. – тропический 4. – субтропический 5. – умеренный 6. – субарктический 7. – арктический	0,5 0,5 0,5 0,5 0,5 0,5 0,5
Определите климатические пояса, которым соответствуют следующие характеристики рек: А) реки всегда многоводны, не замерзают весь год; Б) реки многоводны только в летний период; В) реки маловодны, часто превращаются в вадии или крики; Г) реки не замерзают, летом мелеют, зимой разливаются; Д) реки замерзают на продолжительный зимний период, весной разливаются, летом мелеют.	А) экваториальный Б) субтропический В) тропический Г) субэкваториальный Д) умеренный	1 1 1 1 1

Задание 10.2. Максимальное количество баллов – 12.

В русском языке существуют фразеологизмы (*устойчивые выражения из двух и более слов, в которых при замене или перестановки их местами теряется смысл*). Например, «пятое колесо в телеге», «ни кола, ни двора» и другие. «Расшифруйте» ниже перечисленные выражения. Выделите из фразеологизмов географические объекты и опишите их современное географическое положение.

- 1) Вавилонское столпотворение.
- 2) Дошел до Геркулесовых столбов (столпов).
- 3) Перейти Рубикон.
- 4) Туманный Альбион.

Ответ запишите в таблицу 10.2

Таблица 10.2

Фразеологизм	Географический объект (расшифровка значения)	Кол-во баллов	Географическое положение	Кол-во баллов
«Вавилонское столпотворение»	г. Вавилон (столпотворение – творение столпа – т.е. башни – речь идет о Вавилонской башне)	2	Вавилон – древний город на реке Евфрат в Азии, на территории нынешнего Ирака	1
«Дошел до Геркулесовых столбов»	(т.е. дошел до крайнего предела). Геркулесовы столбы считались «краем света», которые легендарный Геркулес поставил над Гибралтарским проливом, в знак того, что дальше пути нет	2	Гибралтарский пролив отделяет Европу от Африки	1
«Перейти Рубикон»	(т.е. принять опасное и бесповоротное решение). Знаменитый полководец Юлий Цезарь нарушил запрет сената и перешел пограничную речку Рубикон в результате чего началась гражданская война.	2	Небольшая речка Рубикон находится на Апеннинском полуострове, впадает в Адриатическое море, к северу от Римини. До 42 года до н. э. служила границей между Италией и римской провинцией Цизальпийская Галлия.	1
«Туманный Альбион»	(означает образное название Англии). Слово «Альбион» (от латинского «альбус») значит Британия. Прославленный густой туман, постоянно окутывающий низменные части острова, дал определение «туманный».	2	Британские острова расположены северо-западнее Европы, омываются Атлантическим океаном и Северным морем.	1

Задание 10.3. Максимальное количество баллов - 9

В течение длительного времени население приспособивалось к разнообразным природным условиям. Это отразилось и на особенностях традиционных жилищ коренных народов различных территорий. Определите по фотографиям А, Б, В, Г, Д, Е какие жилища характерны для Японцев, Монголов и Норвежцев. Определите район проживания каждого коренного народа, обозначенный на контурной карте цифрой. Ответ запишите в таблицу 11.3

Таблица 10.3

Народы	Жилища	Количество баллов	Район проживания	Количество баллов
Японцы	Д	2	1	1
Монголы	Е	2	2	1
Норвежцы	В	2	5	1

Задание 10.4. Максимальное количество баллов – 26

Внимательно рассмотрите карту и назовите центры происхождения культурных растений. На основании представленных фотографий растений определите их названия и принадлежность к центру 1 или центру 2.
Заполните таблицу 10.4.


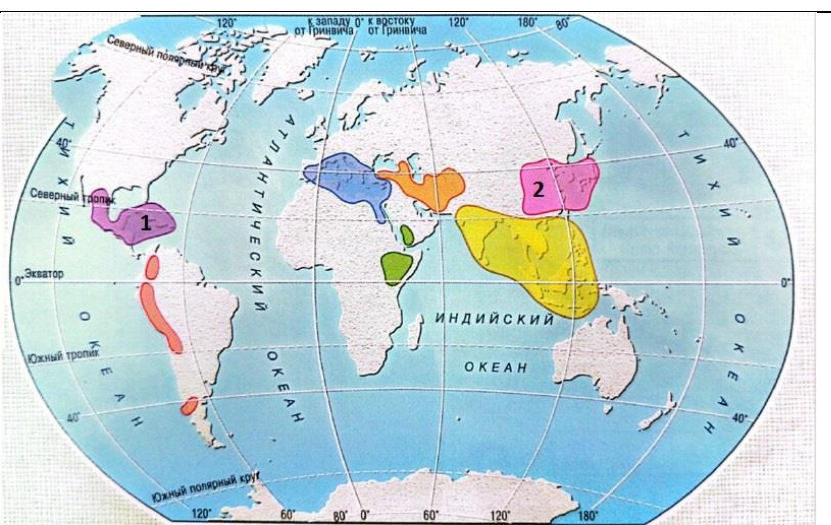


Таблица 10.4

Вопрос	Ответ	Количество баллов	
1. <u>Центральноамериканский</u> центр происхождения культурных растений	а – батат г – папайя ё – пекан з – хлопчатник и – подсолнечник	й – какао к – авокадо о – кукуруза р – перец с – тыква	Название центра - 3 балла За каждый правильный ответ принадлежности культурных растений к центру происхождения по 1 баллу и всего 10 баллов за 10 правильных ответов.
2. <u>Восточноазиатский</u> центр происхождения культурных растений	б – хурма в – мандарин д – яблоко е – китайская капуста ж – редька	л – бамбук м – лимон н – рис п – грецкий орех т – соя	Название центра - 3 балла За каждый правильный ответ принадлежности культурных растений к центру происхождения по 1 баллу и всего 10 баллов за 10 правильных ответов.

Задание 10.5. Максимальное количество баллов – 14,5

Рассмотрите внимательно космоснимок (1) и ответьте на следующие вопросы:

Таблица 10.5

Вопросы	Ответы	Количество баллов
1. Как называются горы обозначенные цифрой 1 и их высшая точка?	горы Альпы г. Монблан – 4810 м.	2 1
2. В какое геологическое время (складчатость) эти горы образовались?	Горы Альпы образовались в альпийскую складчатость.	2
3. Каково их географическое положение?	Центральная часть Европы	1
4. На территории каких стран располагаются горы?	На территории 8 стран: Франция Монако Италия Швейцария Германия Австрия Лихтенштейн Словения	0,5 0,5 0,5 0,5 0,5 0,5 0,5 0,5
5. Что такое Альпийский пояс?	Альпийский пояс – природный высотный пояс, ландшафты которого свойственны преимущественно хорошо увлажнённым горам умеренных и субтропических поясов	1,5
6. Каковы факторы высотного положения альпийского пояса?	Высотное положение альпийского пояса определяется: а) географической широтой б) экспозицией склонов в) степенью континентальности климата	0,5 0,5 0,5
7. Какое высотное положение альпийского пояса в Альпах?	В Альпах альпийский высотный пояс находится на высотах 1900–3000 м	1,5