

Олимпиада школьников по географии
Ответы к заданиям муниципального этапа
для 7 класса в 2023/2024 учебном году

Ответы к тестовому заданию для 7 класса – максимально 30 баллов		
№ вопроса	Вариант ответа	Кол-во баллов
1.	г) Страбон	1
2.	в) определил размеры земного шара	1
3.	в) план	1
4.	а) 0°	1
5.	б) 12712 км	1
6.	б) ядро, мантия, земная кора	1
7.	б) Марианский	1
8.	в) протяженные	1
9.	б) Ключевская сопка	1
10.	в) материковых отмелях	1
11.	г) Атлантический и Тихий океаны	1
12.	а) р. Нил	1
13.	а) Залив Фанди (Атлантическое побережье Северной Америки)	1,5
14.	в) его удерживает сила притяжения Земли	1
15.	г) 8°C	1
16.	а) бараньи лбы	0,5
	в) курчавые скалы	0,5
17.	в) Северная Америка	1
18.	а) Гавайские	0,5
	б) Канарские	0,5
19.	а) в 10 км к западу от оз. Байкал	1
20.	в) Гондвана	1
21.	г) лесостепи	1
22.	а) кукуруза	1
23.	а) Тропические леса экваториальной Африки	1
24.	г) географическая оболочка	0,5
25.	г) Тихом	0,5
26.	в) схожих по внешнему виду	1
27.	оз. Виктория	1,5
28.	Россия	1
29.	климатолог	0,25
	высокого	0,25
	Воронеж	0,5
	Александр Иванович Воейков	0,5
30.	польдеры	0,5

Ответы к теоретическому туру 7 класса в 2023/2024 учебном году

Задание 7.1. Максимальное количество баллов – 13.

Таблица 7.1

Вопросы	Ответы	Кол-во баллов
1. Название озер	А. Онтарио Б. Ладожское В. Маракайбо	0,5 0,5 0,5
2. Местоположение озер	А. На границе США и Канады Б. В Республике Карелия (северный и восточный берег) и Ленинградской области (западный, южный и юго-восточный берег) В. Озеро в Венесуэле	1 1 1,5
3. Последовательность расположения в зависимости от площади	А, Б, В	0,5 0,5 0,5
4. Максимальная глубина	А. 244 м Б. более 200 м В. 34 м	1 1 1
5. Происхождение озерных котловин	А. Ледниковое Б. Ледниковое В. Озеро-лагуна	1 1 1,5

Задание 7.2. Максимальное количество баллов – 12.

Таблица 7.2

Понятия (цифры)	1	2	3	4	5	6	7	8	Кол-во баллов
Определения (буквенные обозначения)	д	е	ж	а	г	в	б	з	За каждый правильный ответ по 1,5 балла, всего 12 баллов






Задание 7.3. Максимальное количество баллов – 18.

Таблица 7.3

Характеристики зоны тундры	Верные утверждения	Ошибочные утверждения	Кол-во баллов
<p>На картосхеме черным цветом представлена одна из природных зон Земного шара. Как она называется? Найдите ошибки, допущенные при ее характеристике.</p> <p>1. Зона протянулась вдоль побережья Северного Ледовитого океана.</p> <p>2. Для зоны характерна морозная зима и прохладное лето.</p> <p>3. Средние июльские температуры в зоны достигают +15⁰</p> <p>4. В зоне выпадает большое количество осадков, в среднем около 600-800 мм в год.</p> <p>5. В зоне широко распространены мерзлотные формы рельефа.</p> <p>6. С декабря по февраль в зоне длится полярная ночь.</p> <p>7. Зона относится к области избыточного увлажнения.</p> <p>8. Для зоны характерны подзолистые почвы.</p> <p>9. Растительность после воздействия человека быстро восстанавливается.</p> <p>10. В зоне расположены основные пастбища северных оленей.</p>	Зона тундры		1
	1. Зона протянулась вдоль побережья Северного Ледовитого океана.		0,5
	2. Для зоны характерна морозная зима и прохладное лето.		2,5
		3. Средние июльские температуры в зоны достигают +15 ⁰ .	2
		4. В зоне выпадает большое количество осадков, в среднем около 600-800 мм в год.	2
	5. В зоне широко распространены мерзлотные формы рельефа.		1,5
	6. С декабря по февраль в зоне длится полярная ночь.		1,5
	7. Зона относится к области избыточного увлажнения.		1
		8. Для зоны характерны подзолистые почвы.	2
		9. Растительность после воздействия человека быстро восстанавливается.	2
10. В зоне расположены основные пастбища северных оленей.		2	

Задание 7.4. Максимальное количество баллов – 15.

Таблица 7.4

Фото животного	Название животного	Название страны	Кол-во баллов
	Фенек	Алжир	2+1=3
	Рыжий печник	Аргентина	3+1=4
	Бурчеллова зебра	Ботсвана	0,5+1,5=2
	Рыжебрюхий дрозд	Бразилия	2+1=3
	Обыкновенный цветной тупиал	Венесуэла	2+1=3

Задание 7.5. Максимальное количество баллов –12 баллов.

Таблица 7.5

Вопросы	Ответы	Кол-во баллов
1. Как называется город и когда он был образован, на каких реках (А, Б, В) он расположен? Куда впадает река В?	Город называется Кызыл.	1
	Город был основан в 1914 году.	1
	Город расположен на р. Енисей в месте слияния рек Большой Енисей и Малый Енисей.	2
	Енисей впадает в Карское море.	1
2. Какие функции город выполняет?	а) Кызыл - административная столица Республики Тува, и здесь находятся органы республиканского управления.	0,5
	б) В Кызыле много культурных объектов, включая театры, музеи и места исторического значения, которые сохраняют тувинскую культуру и традиции.	0,5
	в) Кызыл является центром изучения и продвижения культуры и традиций тувинского народа.	0,5
	г) Республика Тува привлекает туристов своей природной красотой, включая горы и озера уникальной красоты и Кызыл играет важную роль в ее сохранении.	0,5
3. Как называется достопримечательность под номером 3?	Обелиск «Центр Азии»	2,5
4. Что изображено на фото 4?	Тувинский национальный музей	2,5