

**Всероссийская олимпиада школьников по истории.
2023/24 уч. год. Муниципальный этап. Красноярский край.
Задания. 7 класс**

Задание № 1. По какому принципу образованы ряды? Дайте краткий ответ? (ответы без пояснения не принимаются). [5 балла]:

1. Стригольники, скопцы, жидовствующие, хлысты -
2. Варяжское море, Финский залив, Нева, озеро Ильмень, Днепр -
3. Нарва, Нейшлосс, Дерпт, Нейгауз -
4. князь Д. Т. Трубецкой, Масальский, князья Пронский и Козловский, Мансуров, Нащокин, Волконский, Волынский, Измайлов, Вельяминов -
5. Поход на Киев и осада Родня, захват Червенских городов, поход на ятвягов, поход на волжских болгар, битва с печенегами на р. Трубеж -

Задание 2. Пословицы – важный источник исторических знаний. Прочитайте внимательно предложенные пословицы, объясните их смысл. [10 баллов]:

- 2.1 «Погибоша, аки Обре, их же несть племени, ни наследка»
- 2.2 «Аще ся ввадит волк в овце, то выносят все стадо, аще не убьют его»
- 2.3 «Добрыня крести мечом, Путята – огнем».
- 2.4 «Лучше в своей стране лечь костьюми, нежели быть славным на чужбине
- 2.5 «Душа на Великой, а сердце на Волхове».
- 2.6 «Дмитрий и Борис за город подрались
- 2.7 «Новгородцы такали, такали, да Новгород и протакали»
- 2.8 «Сирота Казанская»
- 2.9 «Не будет пахатника - не станет и бархатника»
- 2.10 «Вот тебе, бабушка, и Юрьев день»

Задание 3. Установите соответствия между событиями российской и европейской истории и напишите их даты (обратите внимание, что справа в таблице одна позиция – лишняя) [8 баллов]:

3.1.

Событие российской истории	Событие европейской истории
1) Принятие Ольгой христианства	а) Образование Золотой Орды
2) Начало составления Русской Правды Ярославом Мудрым	б) Господство датчан в Англии
3) Крещение киевлян. Начало распространения христианства на Руси	в) Начало третьего Крестового похода
4) Начало неудачного похода на половцев князя Игоря Святославича, послужившего темой «Слова о полку Игореве»	г) Возникновение республиканского строя в итальянских государствах
5) Второй съезд русских князей в г. Витичеве	д) Основание Оттоном I Священной Римской империи
6) Победа Александра Невского на Чудском озере (Ледовое побоище)	е) Крещение Исландии
	ж) Начало Столетней войны между Англией и Францией

3.2.

Лишнее событие: _____

Задание 4. Найдите верные выражения. Ответы запишите в таблицу [10 баллов]:

1. Борис Годунов был избран на царство Земским собором.
2. Тюркский и Аварский каганаты оказались не прочными государствами.
3. Русские купцы из-за договора 911 года никогда не были на рынках Константинополя.
4. Иван III в начале XVI века был независимым правителем.
5. Реформы хана Узбека позволили упростить управление страной и сбор налогов.

6. Лжедмитрий 1 принял католичество, так как иначе польский король не помог бы ему захватить власть. Более того у поляков были свои планы на этот счет.
7. В XV веке главой Российского государства являлся царь.
8. Города на Руси в XIV в. имели сильное самоуправление и были независимы от князей.
9. Наемных скандинавских воинов восточные славяне называли варягами.
10. Ноговицы – это специальный налог, который был введен на дружинников, носивших кожаную обувь.

верно	Не верно

Задание 5. Перед вами 7 изображений. Определите, какие храмы относятся к Соборам Московского Кремля, построенные во второй половине XVв. Укажите номер изображения и напишите название храма [8 баллов]:


храмы



1



2



3



4



5



6



7

Ответ:

Задание 6. Работа с историческим источником. Прочитайте фрагмент источника, ответьте на вопросы (8 баллов)

Из записок иностранного путешественника:

«<...> – удивительно большой город; он расположен на большой равнине, окружённой большими лесами, и находится в низкой местности среди вод и болот. Посреди упомянутого города течёт большая река по имени Волхов. Город обнесён плохими стенами, сделанными из плетня и земли, тогда как башни каменные. Этот город независим и имеет общинное правление. Здесь есть епископ, который представляет как бы их начальника. И содержат они, равно как и все прочие русские в Руси, которая очень велика, христианскую религию по своему обряду, такому же, как и у греков. Они имеют замок, расположенный на берегу упомянутой реки, и в нём соборная церковь святой Софии, которую они почитают, и там живёт их упомянутый епископ.

Внутри упомянутого города живёт много больших сеньоров, которых они называют боярами, и там есть такие горожане, которые владеют землёй в 200 лье (800 километров) длины, богаты и могущественны удивительно. И не имеют русские великой Руси других властителей, кроме этих бояр, выбираемых по очереди так, как хочет община. Они имеют в своём городе рынок...

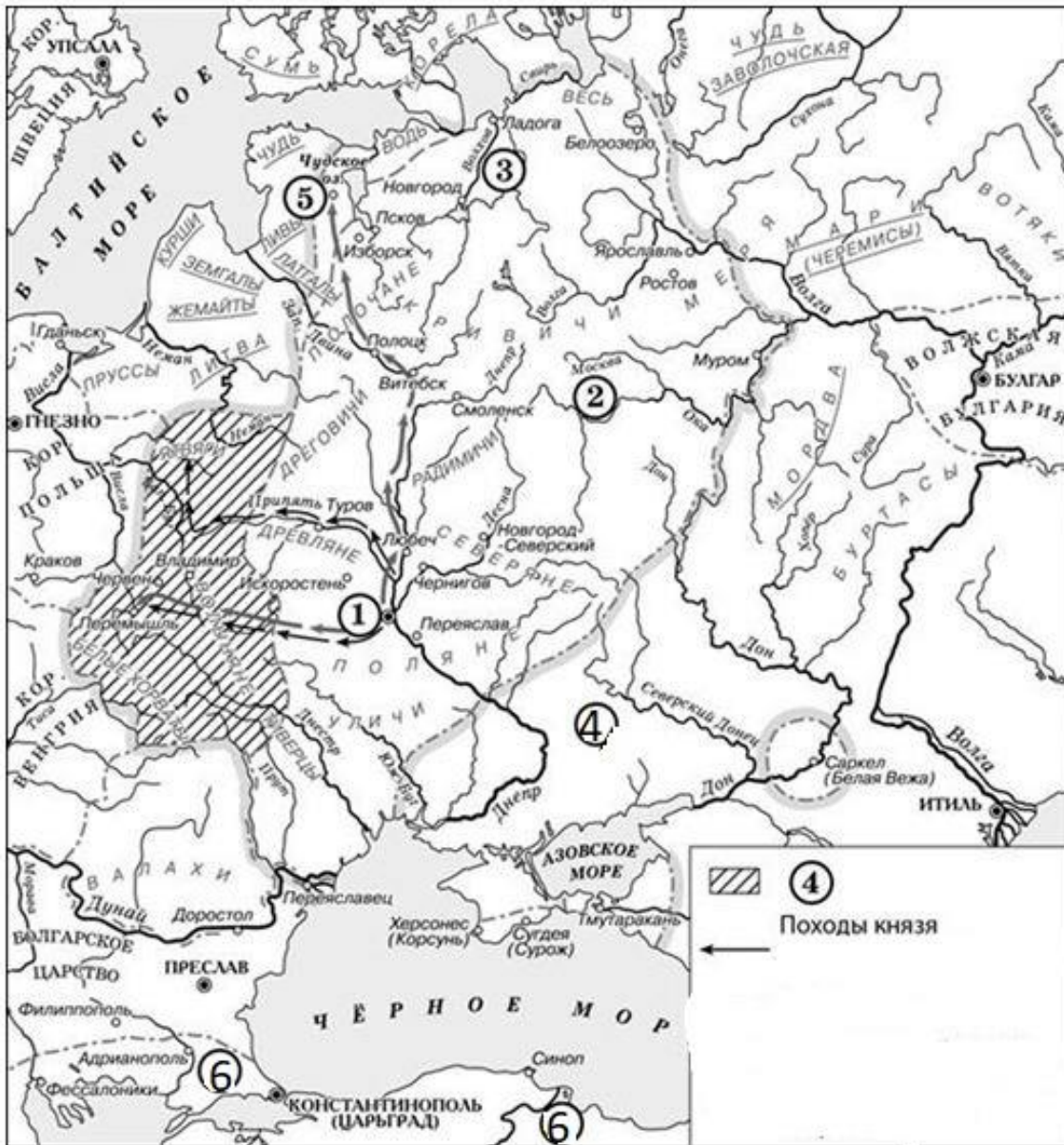
Они имеют двух начальников: тысяцкого и посадника, которые и управляют сказанным городом. Эти правители возобновляются из года в год.

Я был девять дней в этом городе, и упомянутый епископ присылал мне каждый день более 30 человек с хлебом, мясом, рыбой, буковыми орехами, пивом и мёдом, а вышеупомянутые тысяцкий и посадник дали мне обед – самый странный и самый удивительный из всех, виденных мною когда-либо. В ту зиму было так холодно, что занимательно было бы рассказать о стужах, которые там были, потому что мне приходилось ехать в стужу...

Все сеньоры <...> владеют 40 000 конницы и бесчисленную пехотой. Они часто воюют с соседями и особенно с рыцарями Лифляндии и выиграли прежде много больших сражений...»

1. **Укажите город, о котором идёт речь.**
2. **Укажите форму правления, существовавшую в данном городе и на подвластных ему территориях в период, описываемый в отрывке.**
3. **Укажите год, когда этот город вошёл в состав единого Российского государства.**
4. **Какие должностные лица, управлявшие городом, о котором идёт речь, названы в отрывке?**

Задание 7. Работа с исторической картой. Внимательно рассмотрите карту и выполните задания [9 баллов]:



- 7.1. Как звали князя, походы которого изображены на карте и даты его правления,
- 7.2. В каком городе начал свою деятельность этот, походы которого изображены на карте?
- 7.3. Определите, какие походы находятся под цифрами 1,2,3,4,5,6.
- 7.4. Какие суждения, относящиеся к событиям, обозначенным на схеме, являются верными? Выберите три суждения из шести предложенных. Запишите в ответ цифры, под которыми они указаны.

1. Князем, походы которого отображены на карте, был Вещий Олег.
2. В результате похода на земли под цифрой 2 эти племена были вновь побеждены, в наказание князь назначил дань в двойном размере.
3. В результате похода, обозначенного цифрой 5, князь приказал возвести 4 оборонительных рубежа, что сделало невозможным внезапное нападение печенегов.
4. В результате одного из походов, обозначенного цифрой 4, произошло пленение князя Родомана с тремя сыновьями.
5. В результате одного из походов, обозначенных на карте, столицей Руси стал город под цифрой 1.
6. После кончины этого князя, великокняжеский престол на землях, обозначенных цифрой 6, захватил новгородский князь Ярослав.

Задание 8. Внимательно рассмотрите представленные вам изображения (20 баллов)

8.1 Определите к деятельности какого правителя они относятся?

8.2 Заполните таблицу, сохраняя хронологическую последовательность при определении событий

Номер изображения	Событие
1	
2	
3	
4	
5	
6	

1



2



3



4



5



В. К. АНДРЕЙ ДОНСКОЙ
победа в битве у Мамаева,
1380 г.

6



Задание 9. В русском языке есть слова, которые употреблялись в древности, а сейчас изменили свое значение самым неожиданным образом. Что они означали: (7 баллов)

Бабка — _____
Врач — _____
Гостинец — _____
Дрова — _____
Живот — _____
Исполать - _____
Малахай - _____
Напол(ь)ник - _____
Неделя — _____
Прелесь - _____
Рухлядь - _____
Трус - _____
Урод - _____
Ширинка — _____

Задание 10. Сибиряки – народ смелый, упорный, выносливый и неприхотливый, для него характерны инициативность и самостоятельность. Соотнесите картины русских художников с запечатленными на них историческими событиями с цитатами по сюжетам из повседневной жизни. Ответ занесите в таблицу. (За каждое правильное соответствие цитаты и картины по 1 баллу. За правильное название картины и ФИ художника – по 2 балла) Всего 15 баллов).

10.1. Определите, о каких событиях идет речь:

1. «Когда поредевший отряд возвращался в городок или засеку из удачного похода, жизнь казачьего братства преображалась. Люди, глядевшие смерти в глаза, предавались разгулу. Но пир начинался с тризны, с поминания погибших товарищей. Не жалели ни денег, ни припасов. Тризну сменял хмельной веселый пир. Из дальних углов доставали гусли, гудки, свирели, волынки, балалайки. Музыкантов набиралось разом с десяток человек. Они то принимались свистеть, дудеть, куковать, каждый на свой лад, то заводили плясовую.

Подгулявшие герои не жалели пороха и, пока шел пир, палили из ружей, а то и пушечек, так что вся округа знала, что походный атаман гуляет. Загрубевшие в трудах и походах, эти люди не знали меры, когда наступала короткая пора веселья. Они ничего не делали вполсилы. «Гулять — так гулять!» Плясали с утра и до ночи». О чем идет речь?

2. В документе ... XVII в. есть подробное описание шубы с замерами: «Да ево ж Дмитрейка Михайлова добрая черных же соболей шуба пластинная соболя в пять станов, длины по стану 2 аршина, в плечах 13 вершков, в правой поле аршин, в левой поле аршин с полуторым вершком, а в стану отпол в подоле дву аршин без чети, а рукавам длина правой рукав 2 аршина без дву вершков, левой рукав 2 аршина без четверти, а по счету в той шубе 90 пластин соболевых, в вороту приславлено 4 лоскута». С какой целью, на ваш взгляд, делалось столь подробное описание. О каком «мероприятии» идет речь? – ясаки брали не только шкурами, но и шубами, полушубками, шапками, наполниками – «пол-шубы соболя якутские сшиты 10 пластин». О чем идет речь?

3. Сибирцы ... одними из первых начали освоение морских путей вдоль северо-восточных и восточных побережий Сибири, прошли Беринговым проливом, открыли Курильские острова (Д. Анциферов, И. Козыревский) и ряд островов в Ледовитом океане. Потомок тобольского сына боярского поляка Я. Павлуцкого — Д. И. Павлуцкий вошёл в историю географических открытий тем, что, будучи командиром Анадырской партии из четырехсот казаков, созданной для подчинения чукчей и коряков, открыл возможность сухопутного пути от Шелагского мыса до Чукотского полуострова. В донесениях он сообщал важные этнографические данные; описал географию и составил свою карту Чукотки; доказал близость северо-восточной оконечности Евразии к Северной Америке. По распоряжению Д. И. Павлуцкого морским отрядом Анадырской партии (М. Гвоздев, И. Федоров) совершено исследовательское плавание бота «Св. Гавриил» от берегов Камчатки к устью р. Анадырь, островам Берингова пролива и к Аляске. О чем идет речь?

4.


4. В. Я. Шишков «Угрюм-реке»: «А вскоре масленица подкатила настоящая, сибирская: с блинами, водкой, пельменями, жареной в сметане рыбой, вся в бубенцах, в гривастых тройках, с кострами, песнями, разгулом.

Дня за три, за четыре целая орава ребятенок, на широкой площади, возле самой церкви "город" ладили. Это такой вал из снега, очень высокий, всадника с головой укроет. Он широким кольцом идет, по гребню елочки утыканы, а в середине, в самом "городе", шест вбит, весь во флагах - Петр Данилыч не пожалел цветного ситцу. На верху шеста колесо плашмя надето, а на колесе в "прощеное" воскресенье Петр Данилыч бочонок водки выставит. Ох, и потеха будет! В "прощеное" воскресенье удалыцы город будут брать: кто примчится на коне к шесту, того и водка. Но не так-то легко смаху в город заскочить...». О каком событии идет речь?

5. Погодинский летописец: «Атаман Ермак Тимофеев с товарищи царство Сибирское взяша и многих живущих ту иноязычных людей под его государеву царскую высокую руку подвели и к шерти их привели, а сибирскаго царя Кучюма и с его детми с Алеем, да са Алтынаем, да с Ышимом и съ его вои победиша и брата царя Кучюмова царевича Маметкула розбиша же. А иноязычных многих людей татар, и остяков, и вагуличь привели к шерти по их верам на том, что им быть под его царскую высокую рукою до веку покамест... стояти, и ясак им государю давати по вся годы, а на русских людей зла никакого не мыслить. А которые похотят к государю в его государеву службу, и тем служити его государева служба прямо, недругом его государским не спущать, елико Бог помощи подаст, и самим им не изменить, к царю Кучюму и в иные орды не отъехать и зла никакого на всяких русских людей не думать, и во всем стоять в прямом постоянстве».

10.2. Каким событиям посвящены полотна художников?

А



Б



В



Г



Д



Ответ:

Номер цитаты	Буква обозначения изображения	Название картины и автор
1.		
2.		
3.		
4.		
5.		